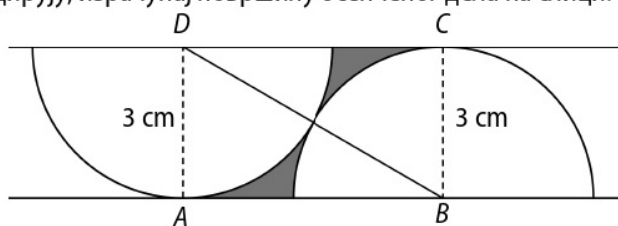


**ДРУШТВО МАТЕМАТИЧАРА СРБИЈЕ**

**ШКОЛСКО ТАКМИЧЕЊЕ ИЗ МАТЕМАТИКЕ  
УЧЕНИКА ОСНОВНИХ ШКОЛА – 03.12.2021.**

**VIII РАЗРЕД**

1. Летело јато гусака изнад низа од три језера. На прво језеро слетело је пола јата и још једна гуска. На друго језеро слетела је половина преосталог дела јата и још једна гуска. На треће језеро слетело је 5 гусака и после тога више није било гусака у лету. Колико је било гусака у јату на почетку?
2. Дана је кружница са центром  $O$  и полупречником 1 cm и на њој тачке  $A$  и  $B$  такве да је  $\sphericalangle AOB = 45^\circ$ . Тачка  $N$  је на полупречнику  $OB$  таква да је дуж  $AN$  нормална на дуж  $OB$ . Израчунај површину троугла  $AON$ .
3. Дат је квадрат  $ABCD$  и на страници  $AD$  тачка  $E$  тако да је  $CE = 8$  cm. Нека је тачка  $F$  подножје нормале из темена  $B$  на дуж  $CE$ . Ако је  $BF = 4,5$  cm, израчунај дужину странице квадрата.
4. Одреди све природне бројеве  $n$  такве да када им се дода 53 добија се квадрат природног броја, а када им се одузме 42, такође се добија квадрат природног броја.
5. Тачке  $A, B, C, D$  су темена правоугаоника. Ако се кругови  $k_1(D, DA)$  и  $k_2(B, BC)$  додирују, израчунај површину осенченог дела на слици.



Сваки задатак се бодује са по 20 бодова.  
Израда задатака траје 120 минута.  
Решење сваког задатка кратко и јасно образложити.

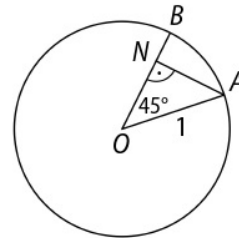
VIII РАЗРЕД

Признавати сваки тачан поступак који се разликује од кључа.  
Бодовање прилагодити конкретном начину решавања.

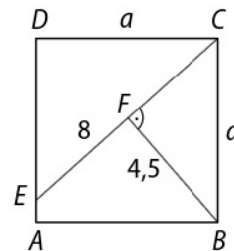
1. Након што је на друго језеро слетело половина гусака и још једна остало је 5 гусака. То значи да је половина од броја гусака које су дошле до другог језера једнака 6, а укупан број гусака које су дошле до другог језера је 12 [10 бодова]. На исти начин добијамо да је број гусака у јату на почетку  $2 \cdot (12 + 1) = 26$  [10 бодова].

2. (МЛ 55/5) Из правоуглог троугла  $AON$  добијамо да је  $AN = ON = \frac{\sqrt{2}}{2}$  cm [10 бодова], па је површина

$$P = \frac{AN \cdot ON}{2} = \frac{1}{4} \text{ cm}^2 \text{ [10 бодова].}$$



3. (МЛ 56/1) Троуглови  $CED$  и  $BCF$  су слични јер су им сви одговарајући углови једнаки [10 бодова]. Из сличности ових троуглова следи  $a : 8 = 4,5 : a$ , одакле је  $a = 6$  cm [10 бодова].



4. (МЛ 55/5) Нека је  $n + 53 = x^2$  и  $n - 42 = y^2$  ( $x, y \in \mathbb{N}$ ). Одузимањем левих и десних страна свих једнакости добијамо  $95 = x^2 - y^2 = (x - y)(x + y)$  [4 бода]. Како је  $95 = 1 \cdot 95 = 5 \cdot 19$ , то постоје две могућности:  $x - y = 1$ ,  $x + y = 95$  [3 бода] или  $x - y = 5$ ,  $x + y = 19$  [3 бода]. У првом случају је  $x = 48$ ,  $y = 47$ ,  $n = 2251$  [5 бодова], а у другом  $x = 12$ ,  $y = 7$ ,  $n = 91$  [5 бодова].

5. Тражена површина једнака је разлици површине правоугаоника  $ABCD$  и полукруга полупречника 3 cm. Како је  $AB = \sqrt{6^2 - 3^2} = 3\sqrt{3}$  cm [5 бодова], површина правоугаоника је  $9\sqrt{3}$  cm<sup>2</sup> [5 бодова]. Површина полукруга је  $\frac{9}{2}\pi$  cm<sup>2</sup> [5 бодова]. Површина осенченог дела је  $9 \cdot \left(\sqrt{3} - \frac{\pi}{2}\right)$  cm<sup>2</sup> [5 бодова].